

Datum:

1. Vervollständige die folgende Übersicht, indem du die Zelltypen angibst. Nenne anschließend die Zellorganellen, die die Zelltypen gemeinsam haben, und jene, durch welche sie sich von den anderen unterscheiden.

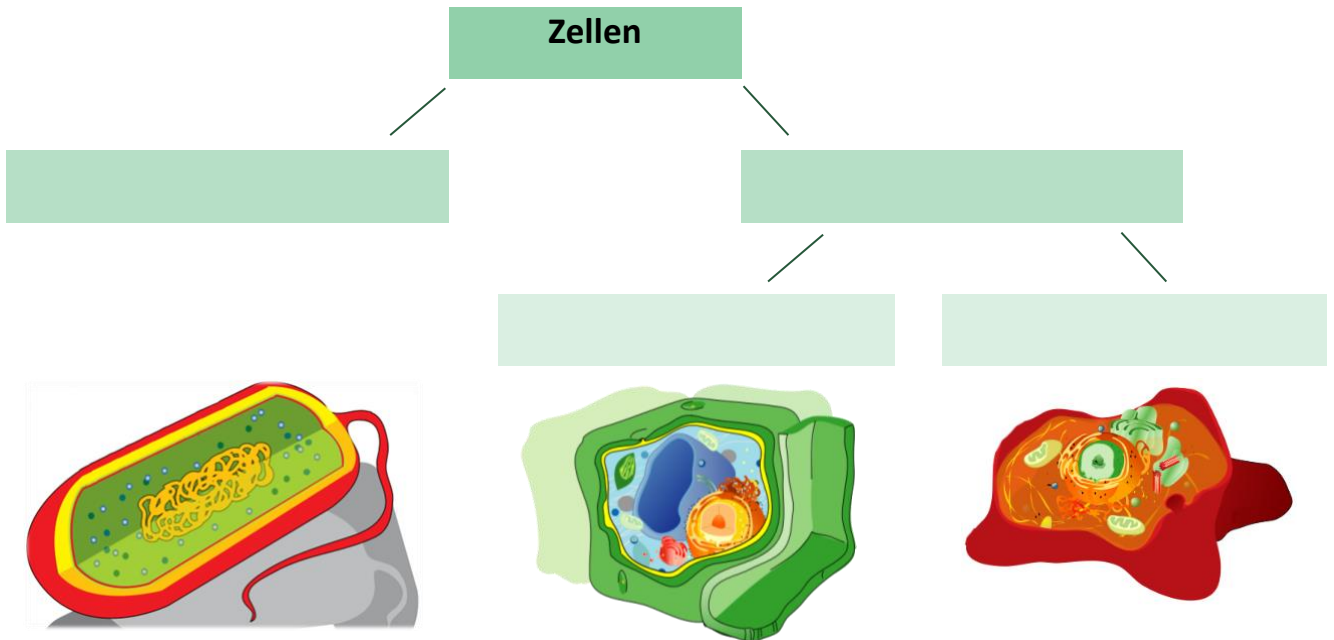


Bild verändert nach: [https://commons.wikimedia.org/wiki/File:Prokaryote\\_cell\\_diagram\\_es.svg](https://commons.wikimedia.org/wiki/File:Prokaryote_cell_diagram_es.svg)

Quelle: [https://commons.wikimedia.org/wiki/File:Plant\\_cell\\_no\\_text-2.svg](https://commons.wikimedia.org/wiki/File:Plant_cell_no_text-2.svg)

Bild verändert nach: [https://commons.wikimedia.org/wiki/File:Animal\\_cell\\_structure\\_no\\_text.svg](https://commons.wikimedia.org/wiki/File:Animal_cell_structure_no_text.svg)

GEMEINSAMKEITEN

-  
-  
-  
-

UNTERSCHIEDE

-  
-  
-  
-

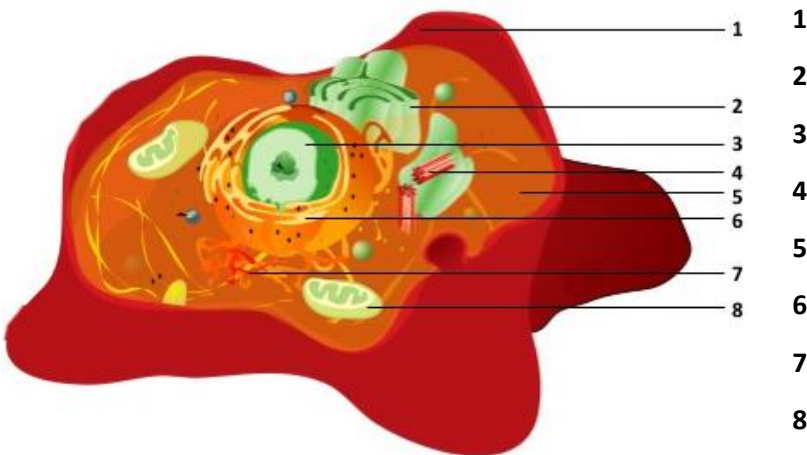
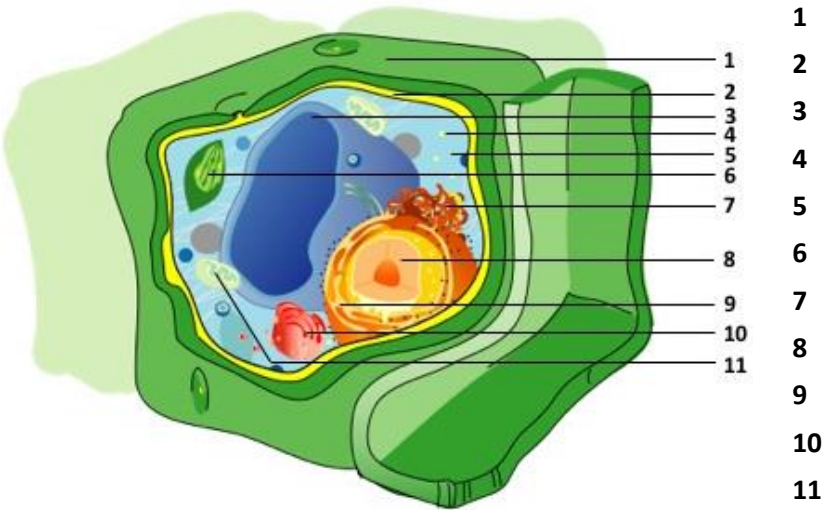
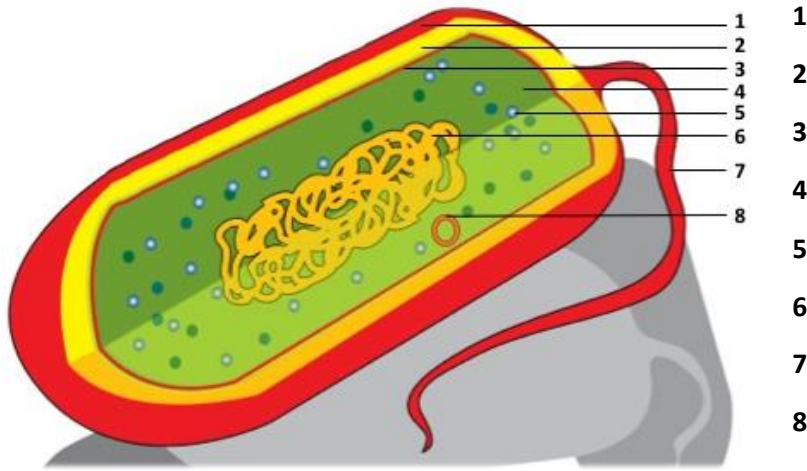
-  
-  
-

-

Vokabeln/Notizen:



2. **Benenne die Zellorganellen, die in den folgenden drei Skizzen von Zellen beschriftet sind.**  
(Falls dir diese Aufgabe Probleme bereiten sollte, kann du das Dokument „Zellen – Zellstruktur – Hilfe“ herunterladen, um Hinweise auf die Lösung zu erhalten.)



Vokabeln/Notizen:



3. Bestimme die in den folgenden Bildern dargestellten Zellorganellen. Gib jeweils ihren Namen an und bei welchen Zelltypen sie vorkommen.




Bild verändert nach: <https://bit.ly/2rUI11P>

Zellorganell:

Vorkommen:

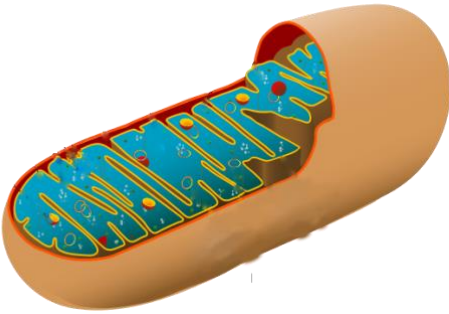


Bild verändert nach: <http://bit.ly/1vyTKOL>

Zellorganell:

Vorkommen:



Bild verändert nach: <http://bit.ly/1rGPawh>

Zellorganell:

Vorkommen:

Vokabeln/Notizen:

